

Date : _____

Mesure avec la règle graduée en centimètres

Pour les exercices 1 à 3, utilise la règle **bleue** graduée en centimètres.

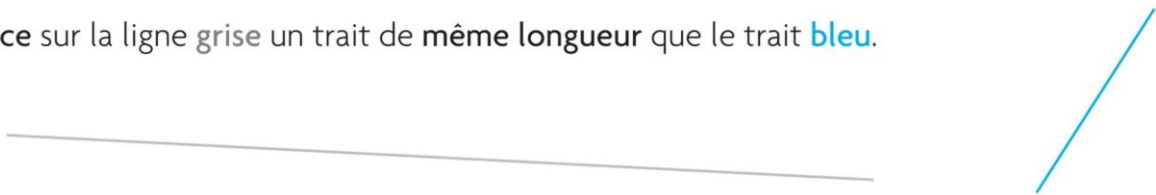
- 1 Écris la longueur de chaque trait.

Le trait **a** mesure centimètres.Le trait **b** mesure centimètres.

- 2 Trace
- en rouge**
- sur cette ligne un trait qui mesure 8 cm.

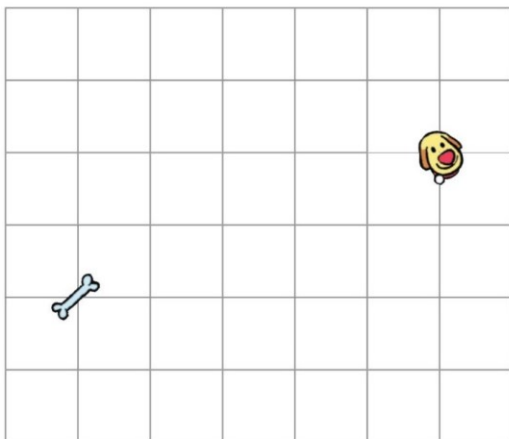


- 3 Trace sur la ligne grise un trait de même longueur que le trait
- bleu**
- .

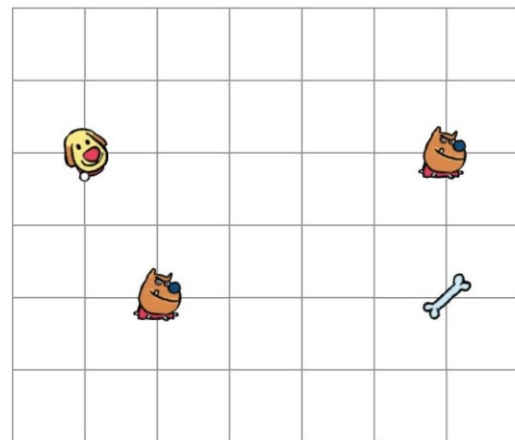


Déplacement sur quadrillage : où est mon os ?

- 4 Trace le chemin suivi par Gribouille pour rejoindre son os.
-
- Le codage du chemin est :



- 5 Trace un chemin pour aider Gribouille à rejoindre son os. Il doit éviter Nestor.



Code le chemin que tu as tracé :

.....